


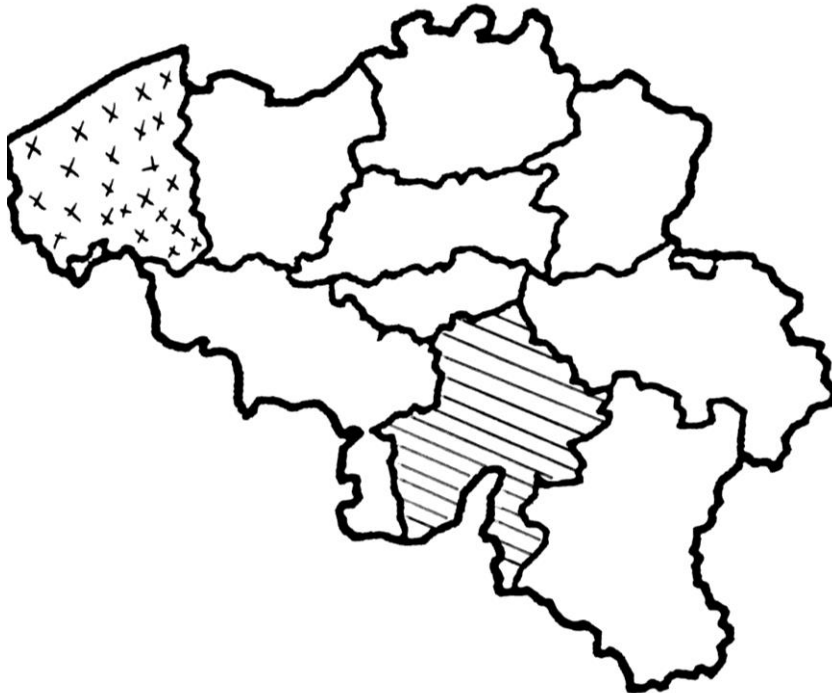
Prénom :

Date :

Géographie : les provinces de Belgique 5^{ème}



1. Colorie en rouge le Hainaut. /1
2. Colorie en bleu le Limbourg. /1
3. Colorie en vert le Brabant wallon. /1
4. Quelle est la province hachurée ? /1
5. Quel est le chef-lieu de la province étoilée ? /1
6. Hachure en jaune la Flandre orientale. /1



7. Cite deux provinces qui portent le même nom que leur chef-lieu :
..... et /2
8. Complète : /3
Le chef-lieu du Brabant flamand est
Arlon est le chef-lieu de la province du
Liège est le chef-lieu de la province de
9. Quelle est la capitale de la Belgique ? /1
10. Colorie la bonne réponse : /3

La Belgique fait partie de :

l'Amérique

l'Asie

l'Europe

Le chef-lieu du Hainaut est :

Charleroi

Mons

Bruxelles

La Belgique compte 10 :

départements

villes


provinces

Prénom :

Date :

Géographie : les provinces de Belgique 4^{ème}

1. Colorie en rouge le Hainaut. /1
2. Colorie en bleu le Limbourg. /1
3. Colorie en vert le Brabant wallon. /1
4. Quelle est la province hachurée ?
/1
5. Quel est le chef-lieu de la province étoilée ? /1
6. Hachure en jaune la Flandre orientale. /1



7. Cite les trois provinces qui portent le même nom que leur chef-lieu :
..... /3

1. Complète : /3
Le chef-lieu du Brabant flamand est
Arlon est le chef-lieu de la province du
Liège est le chef-lieu de la province de

2. Quelle est la capitale de la Belgique ? /1

3. Colorie la bonne réponse : /2

Le chef-lieu du Hainaut est :

Charleroi Mons Bruxelles

La Belgique compte 10 :

départements villes provinces